



وزارة التربية
إدارة الشؤون التعليمية
مناقشة الامتحانات وشؤون الطلبة



نموذج الإجابة
المرحلة الابتدائية

اختبارات نهاية الفصل الدراسي الأول

(منهج كامل)

المادة : العلوم

الصف : الخامس

العام الدراسي

2016 / 2017

المجال الدراسي: علوم

الزمن: ساعة

عدد الأوراق: 5

امتحان المنهج الكامل لنهاية الفترة الدراسية الأولى في مادة العلوم للصف الخامس الابتدائي

(لغائب عن الامتحان الأول بعذر مقبول) للعام الدراسي (2016-2017)

أولاً: الأسئلة الموضوعية (36 درجة)

وزارة التربية

الإدارة العامة لمنطقة مبارك الكبير التعليمية

التوجيه الفني للعلوم



السؤال الأول: اختر الإجابة الصحيحة علمياً لكل من العبارات التالية بوضع علامة (✓) في المربع المقابل لها:

12

1- مجموعة النباتات التي تنتج بذورها داخل مخاريط هي : م 25

الحزازيات السراخس الصنوبريات النباتات الزهرية

2- نبات زهري بذوره وحيد الفلقة هو نبات : م 33


الحمص الفول البازلاء الشعير

3- حيوان لا تتغير درجة حرارته بتغير درجة حرارة البيئة المتواجد فيها هو : م 46

النعامة التمساح السمندل حية غارتر

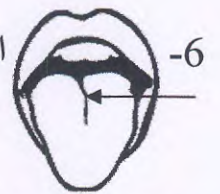
4- الحيوان اللبون القادر علي الطيران هو : م 66

البطريق الخفاش البومة الطائر الطنان

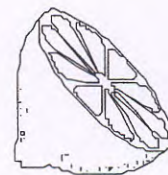
5- عضو في الجهاز  يصل الدماغ بالأعصاب في سائر أنحاء الجسم هو : م 134

الدماغ الأعصاب الجمجمة الحبل الشوكي

6- الجزء المشار إليه بالسهم من اللسان هو موضع براعم الذوق لمذاق الطعام الموضح



بالشكل: م 138



يتبع الصفحة الثانية

12

السؤال الثاني: أكتب بين القوسين كلمة (صحيحة) للعبارة الصحيحة وكلمة (خطأ)

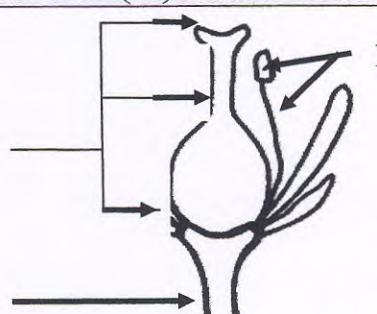
للعبارة غير الصحيحة في كل مما يأتي:

- 1- يتكاثر نبات السرخس بالأبواغ .
 - 2- تتنفس الشراغيف الهواء عبر جلدها ورتنتيها .
 - 3- الريش الصغير الملاصق لجسم الطائر يساعده علي الطيران .
 - 4- الأنزيم في اللعاب يساعد على تحويل المواد النشوية إلي مواد سكرية .
 - 5- البلازما هي الجزء السائل من الدم الذي ينقل المغذيات والفضلات وكريات الدم .
 - 6- يجري الدم في الأوردة أسرع منه في الشرايين .
- (صحيحة...م) 26
 (خطأ.....م) 61
 (صحيحة...م) 65
 (صحيحة...م) 123
 (صحيحة...م) 127
 (خطأ.....م) 129

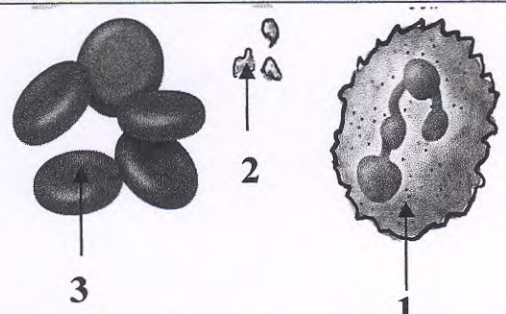
السؤال الثالث: في الجدول التالي اختر العبارة أو الشكل من المجموعة (ب) وأكتب رقمها أمام ما

يناسبها من عبارات المجموعة (أ) :-

4

الرقم	المجموعة (أ)	المجموعة (ب)
2	- جزء من الزهرة ينتج البويضات التي تنمو لتصبح بذورا. ①	
1	- جزء من الزهرة ينتج غبار الطلع. ①	



الرقم	المجموعة (أ)	المجموعة (ب)
3	- نوع من خلايا الدم ينقل الأكسجين إلي خلايا الجسم الأخرى. ①	
1	- نوع من خلايا الدم يقاوم الجراثيم. ①	

السؤال الرابع: أكتب بين القوسين الاسم أو المصطلح العلمي الدال على كل عبارة من العبارات

التالية: -

8

- 1- حيوان فقاري جلده جاف وله قشور . (.....) م 62
- 2- السائل في الفم الذي يرطب الطعام الممضوغ وتبدأ به عملية الهضم . (.....) م 123
- 3- أجزاء دقيقة من خلايا الدم تساعد على وقف النزيف . (.....) م 127
- 4- فرع دقيق من الخلية العصبية يجمع المعلومات . (.....) م 133



ثانياً: الأسئلة المقالية (24 درجة)



6

السؤال الخامس: أكمل جدول المقارنة التالي: -

السبلة	البتلة	وجه المقارنة (أوجه الاختلاف)
<p>١/٤</p> <p>جـ. الذبذبات الحضرية.... حـ. البرعم يغطى الزهرة. النامية وتجمع...</p> <p>م 35</p>	<p>١/٤</p> <p>هي الذبذبات الملونة من الزهور. تغطى البتلات بأجزاء الزهرة التي تنتج بذور وجمعها للحفظ في الفل والفرامات والطيور وغيرها</p>	وجه المقارنة (أوجه الاختلاف)
الوريد	الشريان	وجه المقارنة (أوجه الاختلاف)
<p>١/٤</p> <p>ينقل الدم من الجسم... عدداً إلى القلب.</p> <p>م 128 + م 129</p>	<p>١/٤</p> <p>ينقل الدم من القلب... إلى أنحاء الجسم.....</p>	وجه المقارنة (أوجه الاختلاف)

6

السؤال السادس: أكمل جداول المقابلة التالية:-

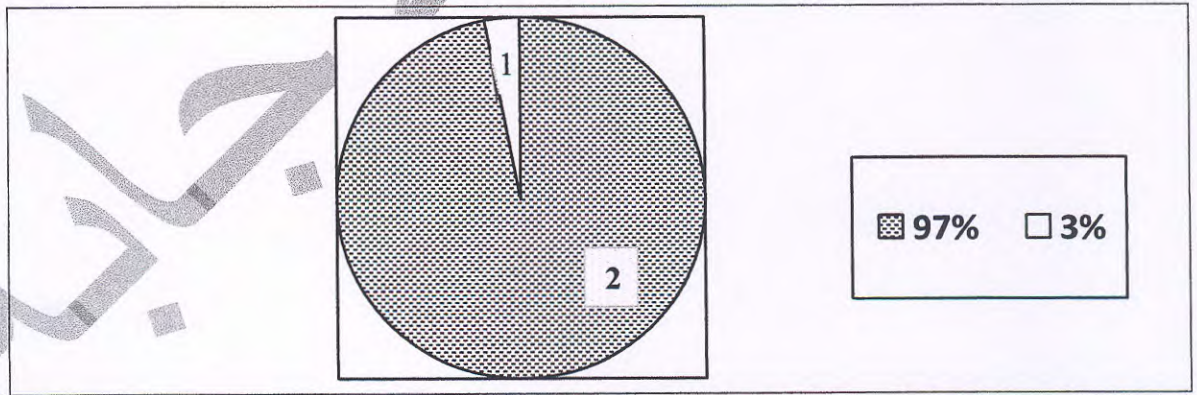
مرحلة البادرة	مرحلة البذرة الكامنة	وجه المقابلة (أوجه التشابه)
		
...دمية.. حياة.. بلاست		

أكل النمل الشوكي	خد الماء البطي المنقار	وجه المقابلة (أوجه التشابه)
حيوانات ليوية تسكن بالبحر		

السؤال السابع: من خلال دراستك للرسم البياني التالي أجب على الأسئلة التالية:


قام أحمد بعمل دراسة حول الحيوانات التي تعيش علي كوكب الأرض فلاحظ أن العلماء صنفوا الحيوانات كلها إلي مجموعتين (حسب وجود العمود الفقري) ومن خلال الرسم البياني يتضح أن :

6



أو طيرانية في المنطقة رقم (1)

1- الحيوانات الأكثر تواجدا في العالم هي الحيوانات كالجفاريات والبيس والعمود فقاريات (3) ص 53

2- ينتمي  للحيوانات في المنطقة رقم (2...) (3) ص 54

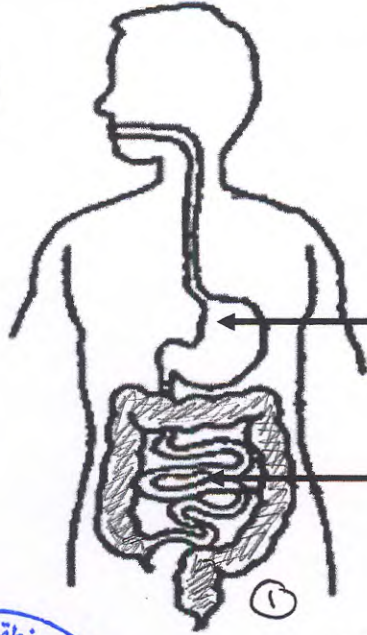
3- من أمثلة الحيوانات التي تنتمي للمنطقة (1) الطيور والذباب والحيوانات (3) ص 53

يتبع الصفحة الخامسة

السؤال الثامن: أكتب البيانات الناقصة على الرسم التالي :-

6

أ- الشكل يوضح الجهاز الهضمي في الإنسان: ص 125



① (.....المعدة.....)

① (.....الدمعارة.....)



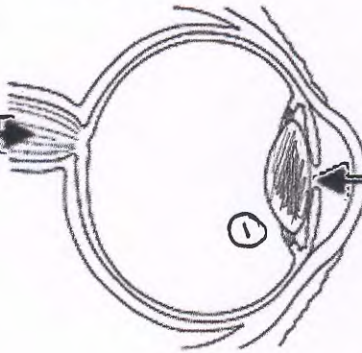
1- اكتب الأجزاء الناقصة على الجهاز الهضمي

2 - ظلل الأمعاء الغليظة في الجهاز الهضمي.

ص 137

ب- الشكل يوضح العين لدى الإنسان:

① (.....العصب البصري.....)



① (.....البؤبؤ.....)

1- اكتب الأجزاء الناقصة على العين.

2 - ظلل العدسة في العين .

انتهت الأسئلة